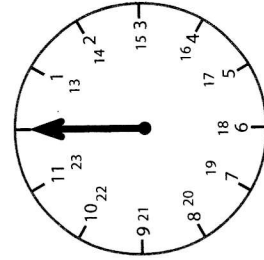
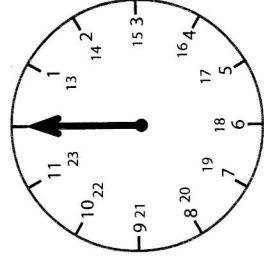


1. Petra vstává ráno v 6 hodin. Do školy odchází v 7 hodin a vyučování začíná v 8 hodin.  
Domaluj malé ručičky na hodiny:

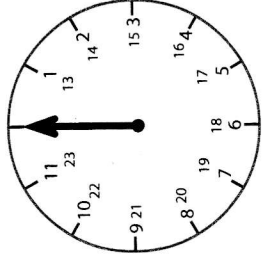
6 h



7 h



8 h



2. Kolik hodin má 1 den?

Jeden den má \_\_\_\_\_ h (hodin)

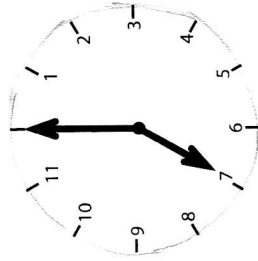
Kolik minut má 1 hodina?

Jedna hodina má \_\_\_\_\_ min. (minut)

Kolik sekund má 1 minuta?

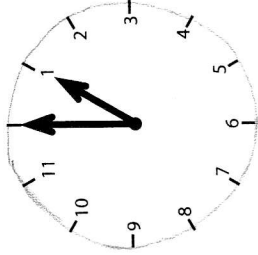
1 min. má \_\_\_\_\_ s (sekund)

3. Zapiš, kolik hodin je na hodinách:



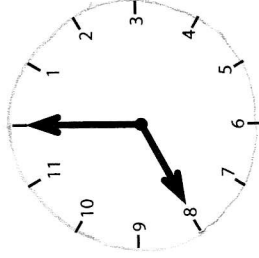
Vstávám.

Je \_\_\_\_\_ h.



Jdu ven.

Je \_\_\_\_\_ h.



Jdu spát.

Je \_\_\_\_\_ h.

4. Když jedna hodina má 60 minut, kolik minut má půlhodina a čtvrt hodina?

Půlhodina má \_\_\_\_\_ min.

Čtvrt hodina má \_\_\_\_\_ min.

5. přečti, kolik je hodin. Ukaž na hodinách s ručičkami. Najdi hodiny, které ukazují stejný čas:

15:30

07:15

08:00

12:45

18:30

19:15

